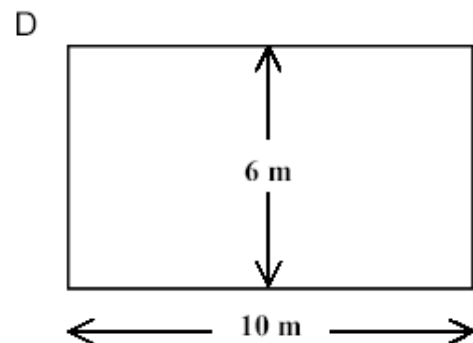
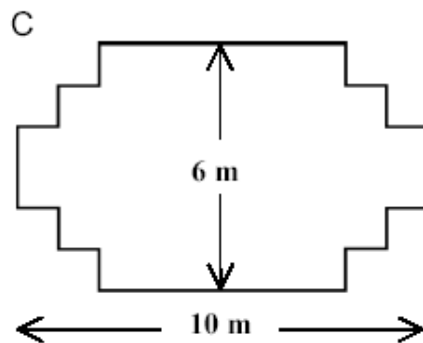
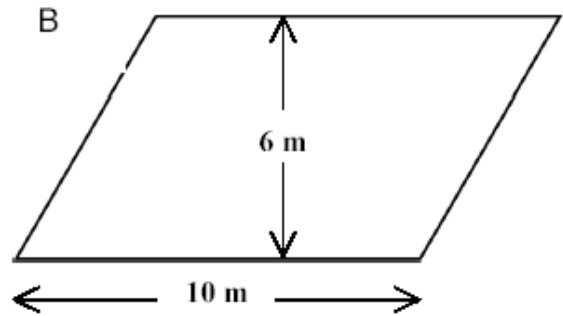
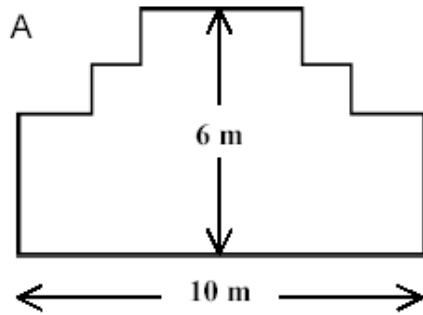


CARPINTERO

Un carpintero tiene 32 metros de madera y quiere construir una pequeña valla alrededor de un parterre en el jardín. Está considerando los siguientes diseños para el parterre.



Pregunta:

Rodea con un círculo Sí o No para indicar si, para cada diseño, se puede o no se puede construir el parterre con los 32 metros de madera.

Diseño del parterre	¿Puede construirse el parterre con 32 metros de madera utilizando este diseño?
Diseño A	Sí / No
Diseño B	Sí / No
Diseño C	Sí / No
Diseño D	Sí / No